

Deporte y arte con ángulos

Un ángulo se puede definir como la parte de un plano delimitada por dos semirrectas que comparten un mismo punto de origen. Los ángulos se clasifican en:

Convexo $< 180^\circ$



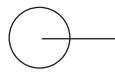
Obtuso $> 90^\circ$



Cóncavo $> 180^\circ$



Completo = 360°



Recto = 90°




Agudo $< 90^\circ$




Llano = 180°



1 Observo las siguientes imágenes y escribo el tipo de ángulo que corresponde.










El arte forma parte de la cultura humana, podemos verla en las construcciones, en una pintura, en la danza, en una escultura, entre otras. El arte también se relaciona con la matemática.

2 Observo la siguiente pintura y escribo el nombre del tipo de ángulo que puedo identificar.



Autoevaluación



¿ En qué otra situación puedo aplicar lo aprendido?



¿Para qué me sirve lo aprendido?



¿Cómo he aprendido?



¿Qué he aprendido?

