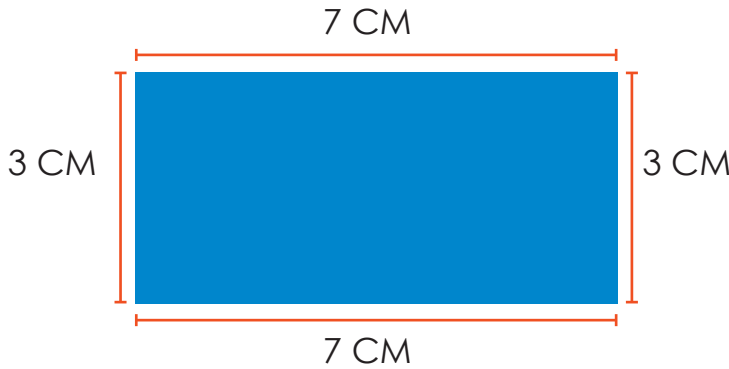


Perímetros en mi escuela

El perímetro es la medida del contorno de un objeto. En el caso de las figuras geométricas se obtiene al sumar la medida de todos sus lados. El perímetro se puede representar con la letra P.

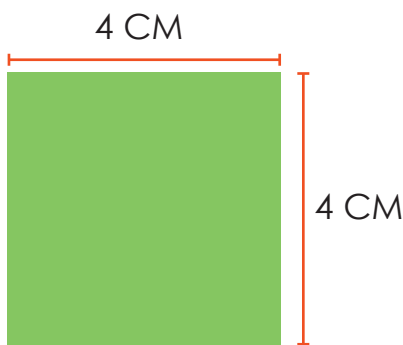


$$P=3+7+3+7$$

$$P=20 \text{ cm}$$

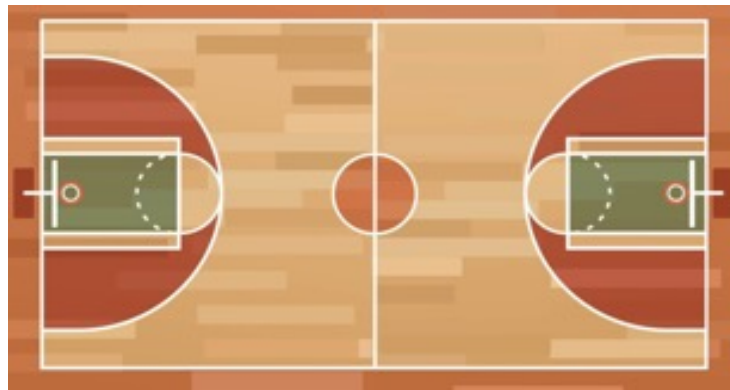
Respuesta: El perímetro del rectángulo es de 20 centímetros.

- 1 Observo las siguientes figuras geométricas y determino su perímetro.



2 Leo con atención el siguiente problema y resuelvo.

En la Escuela Manabí se organiza un campeonato de baloncesto y para la gran final se espera que asistan una gran cantidad de familiares y estudiantes. Por esta razón se ha decidido colocar una cinta de seguridad alrededor de la cancha a una distancia de 2 (dos) metros, tal como se muestra en la siguiente gráfica. Si las dimensiones de la cancha son: 28 m de largo por 15 m de ancho ¿Cuántos metros de cinta se requiere para cercar todo el perímetro de la cancha?



Autoevaluación



¿ En qué otra situación puedo aplicar lo aprendido?



¿Para qué me sirve lo aprendido?



¿Cómo he aprendido?



¿Qué he aprendido?